

- Instrucciones:**
- a) Duración: 1 hora y 30 minutos.
 - b) La presente prueba consta de dos opciones (A y B), de las cuales únicamente se puede desarrollar una, no pudiendo mezclar, en ningún caso, preguntas de ambas opciones
 - c) En todos los casos se considerarán elementos de ponderación de la nota final la calidad de la redacción y la corrección gramatical y ortográfica. La calificación máxima va expresada bajo cada pregunta

OPCIÓN A

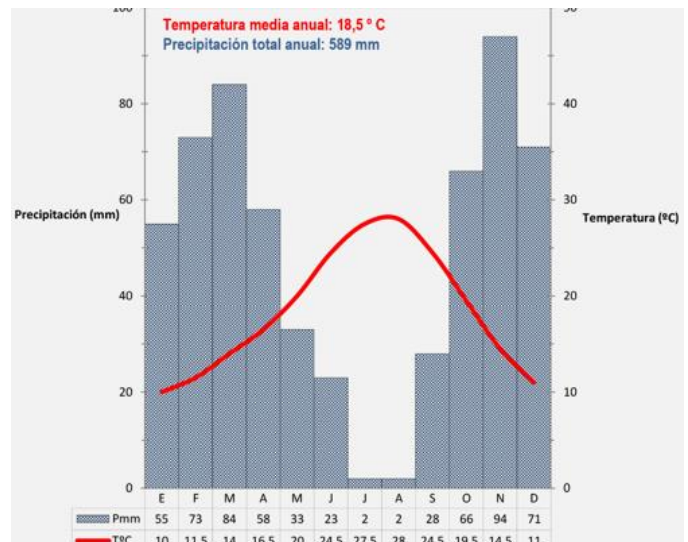
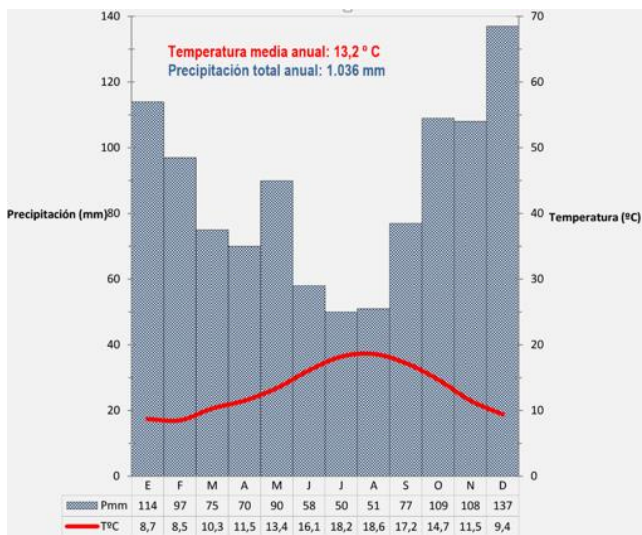
1. **Expresé de modo conciso el significado de los términos que se identifican con las letras a, b, c, d, y diga a qué concepto hacen referencia las expresiones correspondientes a las letras e, f.**
- a) dehesa
 - b) delta fluvial
 - c) crecimiento vegetativo
 - d) balanza de pagos
 - e) ¿Con qué nombre se designa a la transformación industrial de productos agropecuarios? _____
 - f) La diferencia entre la temperatura máxima y la mínima de un lugar se denomina _____

(Valoración: Hasta 3 puntos; máximo 0'5 puntos por respuesta correcta)

2. **Analice estos dos climogramas y conteste a las preguntas siguientes:**

- a) Explique las variaciones estacionales de temperatura y precipitación de cada uno de los climogramas. (Hasta 1 punto).
- b) Defina el concepto de aridez mensual y explique cómo se representa en el climograma correspondiente. (Hasta 1 punto)
- c) Basándose en los datos anteriores explique razonadamente qué tipo de clima representa cada uno de los climogramas. (Hasta 2 puntos)

(Valoración: Hasta 4 puntos)



3. **Tema.- EL PROCESO DE URBANIZACIÓN DE ESPAÑA Y EL SISTEMA DE CIUDADES.** Principales etapas del proceso de urbanización en España. El sistema interurbano: jerarquía, funciones y zonas de influencia. Principales áreas y ejes urbanos.

(Valoración: Hasta 3 puntos)

- Instrucciones:**
- a) Duración: 1 hora y 30 minutos.
 - b) La presente prueba consta de dos opciones (A y B), de las cuales únicamente se puede desarrollar una, no pudiendo mezclar, en ningún caso, preguntas de ambas opciones
 - c) En todos los casos se considerarán elementos de ponderación de la nota final la calidad de la redacción y la corrección gramatical y ortográfica. La calificación máxima va expresada bajo cada pregunta

OPCIÓN B

1. Exprese de modo conciso el significado de los términos que se identifican con las letras a, b, c, d, y diga a qué concepto hacen referencia las expresiones correspondientes a las letras e, f.

- a) occidental
- b) éxodo rural
- c) estuario
- d) frente polar
- e) La zona hundida del relieve donde se depositan y acumulan los sedimentos se llama _____
- f) El grado de ocupación demográfica de un territorio expresado en habs/km² se denomina _____

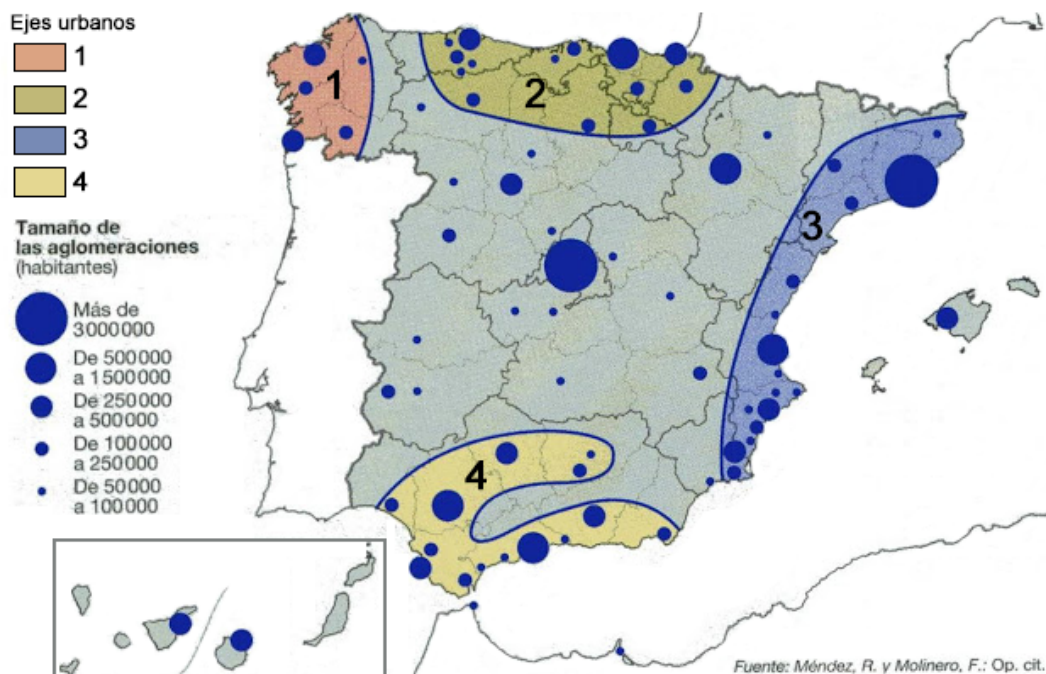
(Valoración: Hasta 3 puntos; máximo 0'5 puntos por respuesta correcta)

2. En el siguiente mapa se representa el sistema urbano español. Analicelo y conteste a las siguientes preguntas:

- a) Cite las aglomeraciones urbanas que tienen entre 500.000 y 1.500.000 habitantes y sitúelas en los ejes urbanos correspondientes. (Hasta 1 punto).
- b) Describa los principales ejes urbanos que aparecen reflejados en el mapa. (Hasta 1 punto).
- c) Explique las principales características del sistema urbano español. (Hasta 2 puntos).

(Valoración: Hasta 4 puntos)

DISTRIBUCIÓN GEOGRÁFICA DE LAS AGLOMERACIONES URBANAS EN ESPAÑA



3. Tema.- **LAS GRANDES UNIDADES DEL RELIEVE.** La Meseta y sus unidades interiores. Los rebordes montañosos de la Meseta. Los sistemas y unidades exteriores. Los relieves insulares

(Valoración: Hasta 3 puntos)