



- Instrucciones:
- Duración: 1 hora y 30 minutos.
 - La presente prueba consta de dos opciones (A y B), de las cuales el alumnado deberá desarrollar solamente una.
 - En todos los casos se considerarán elementos de ponderación de la nota final la calidad de la redacción y la corrección gramatical y ortográfica.

OPCIÓN A

1. Exprese de modo conciso el significado geográfico de los siguientes términos:

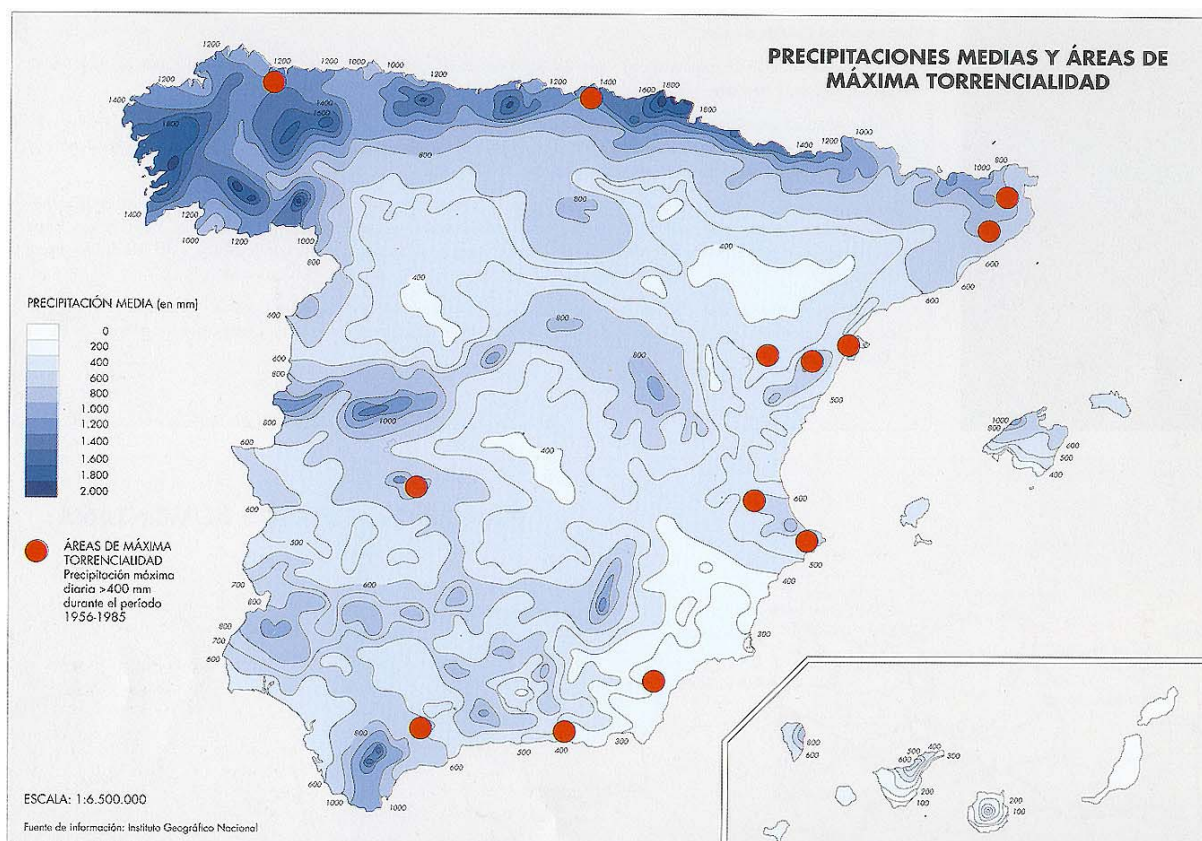
- | | | |
|---------------------------|--------------------------|----------------------|
| - Régimen fluvial | - Amplitud térmica anual | - Monocultivo |
| - Tasa bruta de natalidad | - Industria petroquímica | - Relieve herciniano |

(Valoración: hasta 3 puntos)

2. El mapa representa la distribución de precipitaciones. Analícelo y responda a las siguientes preguntas:

- Compare las precipitaciones que se reciben en el Noroeste peninsular y las que se reciben en el Sureste de la península. Diga las diferencias que existen y explique las posibles causas.
- Comente la relación existente entre los valores de precipitaciones y el relieve de la Península.
- Diga el nombre de las provincias que se ven afectadas por la *máxima torrencialidad* de las precipitaciones.

(Valoración: hasta 3 puntos)



3. Caracterización y evolución de la estructura demográfica española, por edad y sexo, en la segunda mitad del siglo XX.

(Tema libre, para cuyo desarrollo se sugiere realizar un esquema previo)

(Valoración: hasta 4 puntos)



- Instrucciones:
- Duración: 1 hora y 30 minutos.
 - La presente prueba consta de dos opciones (A y B), de las cuales el alumnado deberá desarrollar solamente una.
 - En todos los casos se considerarán elementos de ponderación de la nota final la calidad de la redacción y la corrección gramatical y ortográfica.

OPCIÓN B:

1. Expresar de modo conciso el significado geográfico de los siguientes términos:

- | | | |
|--------------------|--------------------|-----------------------|
| - Red hidrográfica | - Hábitat disperso | - Energías renovables |
| - Pesca de altura | - Mapa topográfico | - Isoyetas |

(Valoración: hasta 3 puntos)

2. El mapa representa la estructura espacial y densidad industrial en 1975. Analícelo y responda a las siguientes preguntas:

- Diga el nombre de las Comunidades Autónomas que figuran en cada uno de los intervalos de *Trabajadores/Km²*.
- Explique los contrastes industriales existentes entre el centro y la periferia españoles.
- ¿Ha cambiado sustancialmente esta situación a partir de 1975?. Explíquelo.

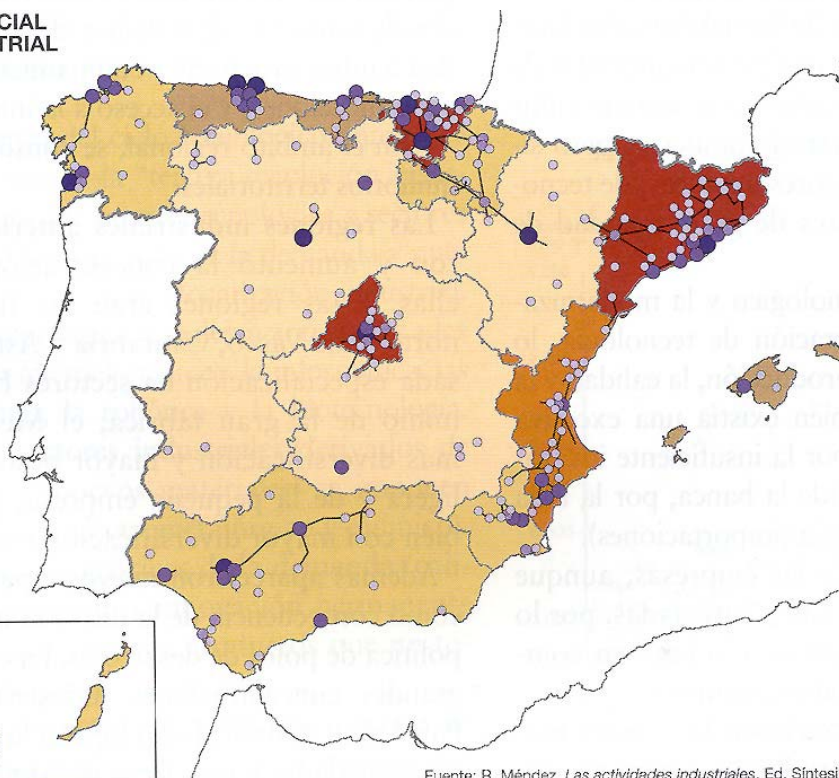
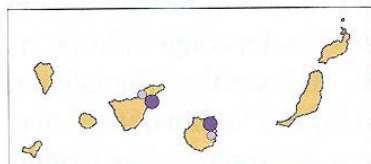
(Valoración: hasta 3 puntos)

**ESTRUCTURA ESPACIAL
Y DENSIDAD INDUSTRIAL
EN 1975**

Trabajadores/Km²
Media España = 7,2



Nº de empleos (miles)



Fuente: R. Méndez. *Las actividades industriales*. Ed. Síntesis.

3. Relieve de la Meseta y sus unidades interiores

(Tema libre, para cuyo desarrollo se sugiere realizar un esquema previo)

(Valoración: hasta 4 puntos)



CRITERIOS ESPECÍFICOS DE CORRECCIÓN

1ª. En las respuestas a los seis conceptos propuestos, se valorará:

- a) La precisión y adecuación del vocabulario empleado para cada respuesta.
- b) La claridad conceptual.

(Valor: hasta tres puntos, repartidos proporcionalmente entre cada una de las seis preguntas formuladas)

2ª En el análisis y comentario de los mapas, se valorará:

- a) La precisión de la localización de los hechos, fenómenos y accidentes geográficos.
- b) La profundidad del comentario.
- c) La correcta utilización terminológica.
- d) La capacidad de análisis y de descripción de los fenómenos.
- e) La madurez en la interpretación y relación de las secuencias de los mismos.

(Valor: hasta tres puntos, repartidos proporcionalmente a cada una de las tres preguntas formuladas)

3ª En el desarrollo de los temas propuestos, se valorará:

- a) La ordenación y estructuración de los contenidos y la coherencia de la exposición.
- b) La precisión y claridad en la exposición de los conceptos.
- c) El grado y profundidad de los conocimientos.
- d) La capacidad de síntesis y de interrelación.

(Valor: hasta cuatro puntos, ponderando cada uno de los criterios enunciados en este apartado)

En todos los casos se considerarán elementos de ponderación de la nota final la calidad de la redacción y la corrección gramatical y ortográfica.