

- Instrucciones:**
- a) Duración: 1 hora y 30 minutos.**
 - b) La presente prueba consta de dos opciones (A y B), de las cuales deberá desarrollar solamente una.**
 - c) En todos los casos se considerarán elementos de ponderación de la nota final la calidad de la redacción y la corrección gramatical y ortográfica.**

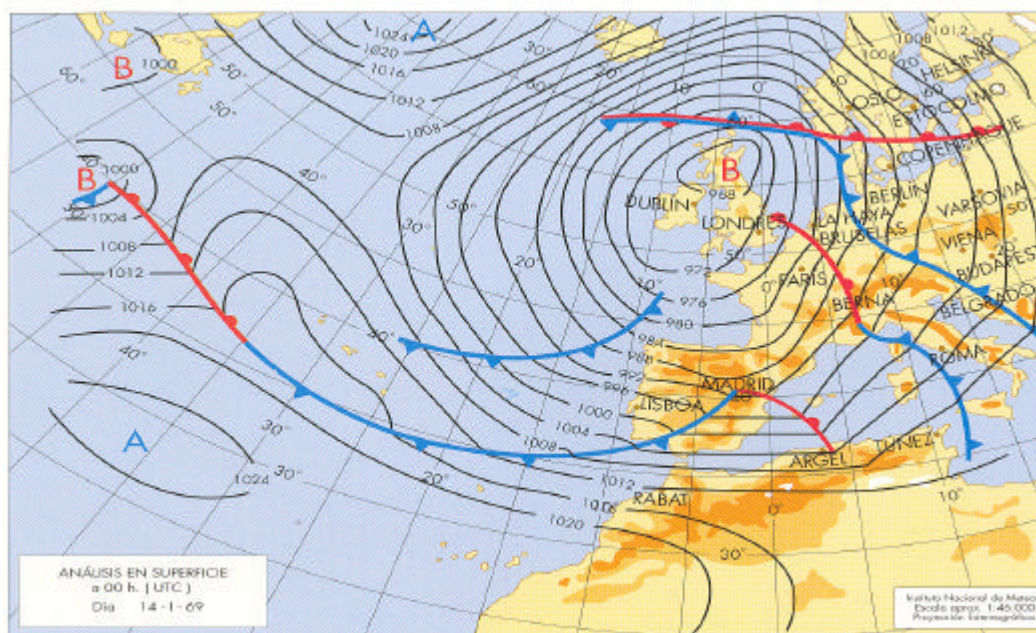
OPCIÓN A

1. **Expresé, de modo conciso, el significado geográfico de los siguientes términos:**
 - Isoyetas
 - Polo de desarrollo
 - Saldo migratorio
 - Bosque caducifolio
 - Red de transporte
 - Barbecho

(Valoración: hasta 3 puntos)

2. **En la figura siguiente se representa un mapa del tiempo que afecta a la Península Ibérica. Analícelo y conteste a las siguientes preguntas:**
 - a) Diga qué *centros de acción atmosférica* hay en el mapa, y sitúelos geográficamente.
 - b) Diga qué tipos de *frentes* aparecen en el mapa y sitúelos geográficamente.
 - c) Diga qué *tipos de tiempo* se estarán produciendo, tanto en la Península Ibérica como en las Islas Canarias.

(Valoración: hasta 3 puntos)



3. **Tipos de turismo en España y su localización.**
(Tema libre, para cuyo desarrollo se sugiere realizar un esquema previo)
(Valoración: hasta 4 puntos)



- Instrucciones:
- Duración: 1 hora y 30 minutos.**
 - La presente prueba consta de dos opciones (A y B), de las cuales deberá desarrollar solamente una.**
 - En todos los casos se considerarán elementos de ponderación de la nota final la calidad de la redacción y la corrección gramatical y ortográfica.**

OPCIÓN B

- Expresar, de modo conciso, el significado geográfico de los siguientes términos:**
 - Morfología urbana
 - Relieve alpino
 - Agricultura de regadío
 - Régimen fluvial
 - Latitud geográfica
 - Fuente de energía.

(Valoración: hasta 3 puntos)
- En la figura siguiente se pueden ver dos mapas que representan la distribución provincial de las tasas de natalidad y mortalidad brutas, en tantos por mil, en España, correspondientes al año 1991. Analice los y conteste a las siguientes preguntas:**
 - Diga el nombre de las provincias que tienen tasas de natalidad superiores al 12 ‰ y de las provincias que tienen tasas de mortalidad superiores al 11 ‰.
 - Diga qué Comunidad Autónoma tendrá mayor crecimiento natural de población: ¿Galicia o Andalucía?.
 - Explique las posibles causas de esta situación.

(Valoración: hasta 3 puntos)

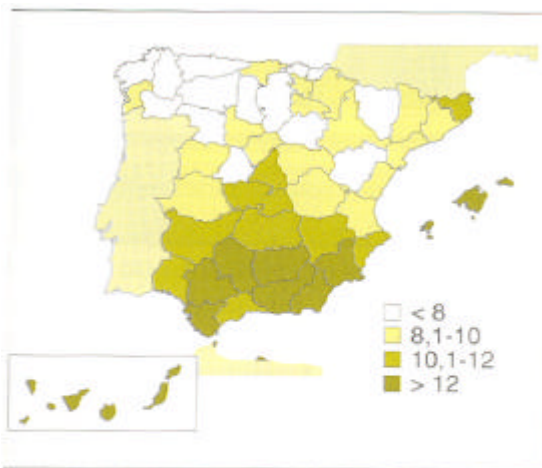


Figura 4.5. Tasa de natalidad en 1991 (‰).
(Fuente: INE.)

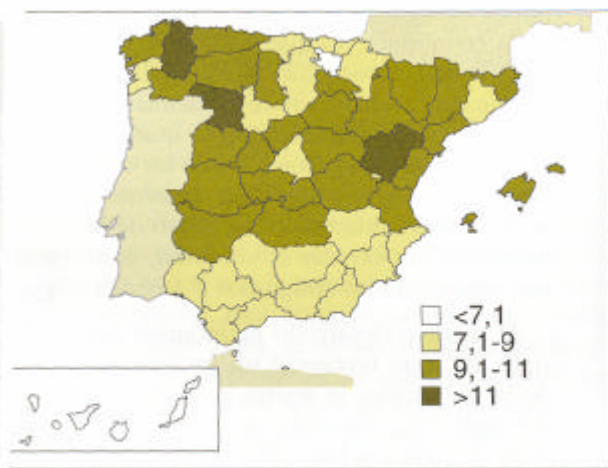


Figura 4.10. Tasa bruta de mortalidad por provincias en 1991. (Fuente: INE.)

- Unidades del relieve peninsular exteriores a la Meseta.**
(Tema libre, para cuyo desarrollo se sugiere realizar un esquema previo).
(Valoración : hasta 4 puntos)