



- Instrucciones:
- Duración: 1 hora y 30 minutos.**
 - La presente prueba consta de dos opciones (A y B), de las cuales deberá desarrollar solamente una.**
 - En todos los casos se considerarán elementos de ponderación de la nota final la calidad de la redacción y la corrección gramatical y ortográfica.**

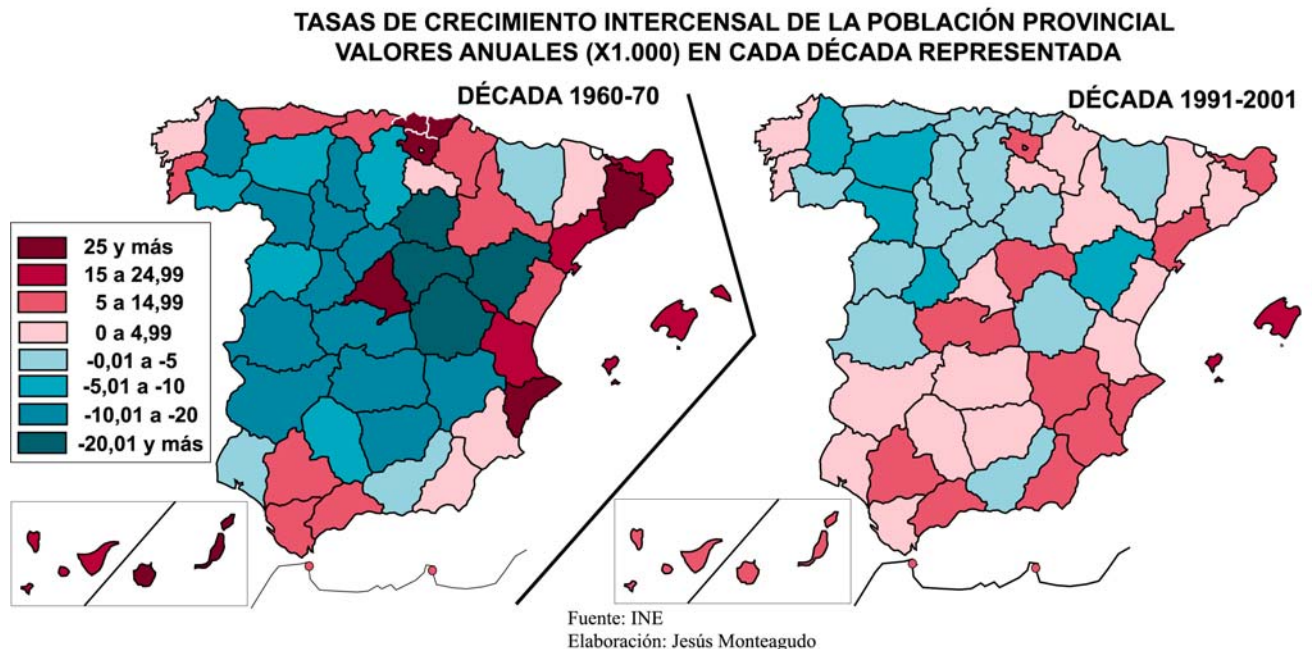
OPCIÓN A

- Expresar, de modo conciso, el significado geográfico de los siguientes términos:
 - Estiaje
 - Morfología urbana
 - Habitat disperso
 - Régimen fluvial
 - Latitud geográfica
 - Rotación de cultivo.

(Valoración: hasta 3 puntos)

- Analice los mapas que siguen y responda a las siguientes cuestiones
 - En la década de 1960-70 ¿qué provincias tienen un incremento demográfico superior al 25 % anual y cuáles entre el 15 y 24,99 %?. Enumérelas diferenciando cada grupo.
 - Explique las causas principales por las que se producen los resultados que muestra el mapa de 1960-70.
 - Compare los dos mapas y explique las causas principales por las que el comportamiento demográfico es tan diferente en ambos períodos.

(Valoración: hasta 3 puntos)



- Condicionantes físicos y humanos de la situación geográfica de la Península Ibérica.
(Tema libre, para cuyo desarrollo se sugiere realizar un esquema previo)

(Valoración: hasta 4 puntos)



- Instrucciones:
- a) Duración: 1 hora y 30 minutos.
 - b) La presente prueba consta de dos opciones (A y B), de las cuales deberá desarrollar solamente una.
 - c) En todos los casos se considerarán elementos de ponderación de la nota final la calidad de la redacción y la corrección gramatical y ortográfica.

OPCIÓN B

1. Exprese, de modo conciso, el significado geográfico de los siguientes términos:

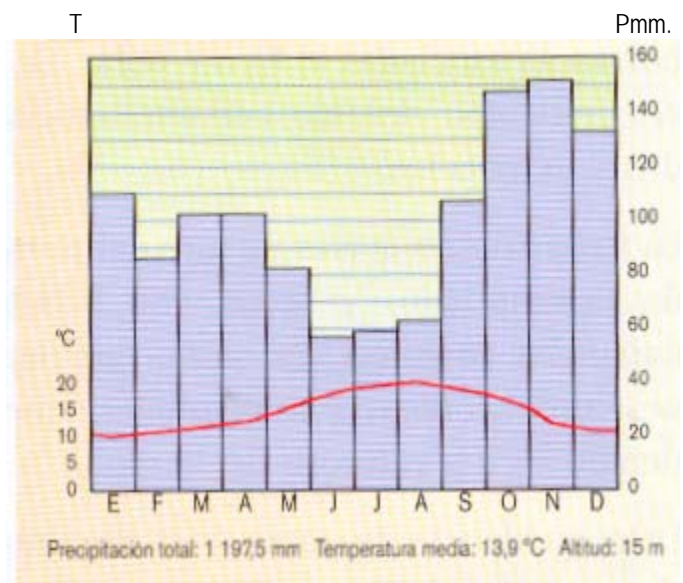
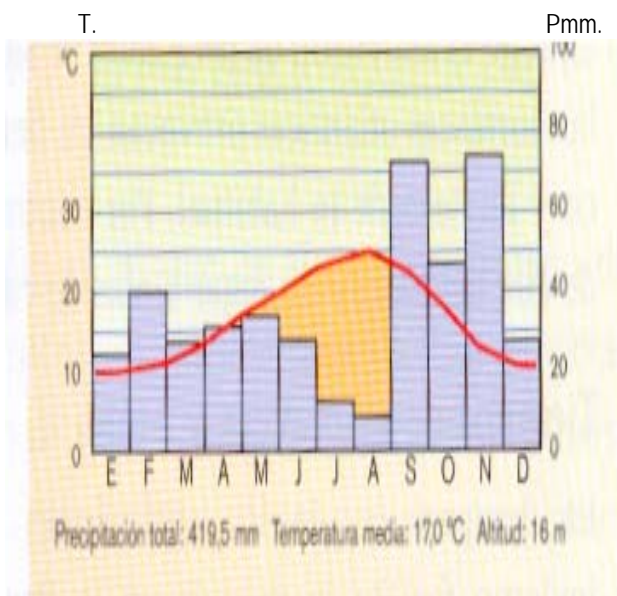
- Latitud geográfica
- Polo de desarrollo
- Densidad de población
- Solsticios
- Red de transporte
- Barbecho

(Valoración: hasta 3 puntos)

2. La figura siguiente representa dos climogramas. Con la información que contienen responda a las siguientes preguntas:

- a) Explica las diferencias térmicas entre estas dos representaciones climáticas.
- b) Halla la oscilación térmica anual de cada uno de los climogramas y explica cómo se refleja en ellos el concepto de aridez.
- c) ¿Qué dos tipos de clima se representan?. Razona la respuesta.

(Valoración: hasta 3 puntos)



3. Características de la actividad agraria en España.

(Tema libre, para cuyo desarrollo se sugiere realizar un esquema previo)

(Valoración: hasta 4 puntos)