



UNIVERSIDADES DE ANDALUCÍA
PRUEBA DE ACCESO A LA UNIVERSIDAD

GEOGRAFÍA

- Instrucciones:
- a) Duración: 1 hora y 30 minutos.
 - b) La presente prueba consta de dos opciones (A y B), de las cuales deberá desarrollar solamente una.
 - c) En todos los casos se considerarán elementos de ponderación de la nota final la calidad de la redacción y la claridad gramatical y ortográfica. La calificación máxima va expresada bajo cada pregunta.

OPCIÓN A

1. Expresar de modo conciso el significado geográfico de los siguientes términos:

Rehabilitación urbana
Régimen pluviométrico

Tasa de paro
Latifundio

Cordillera
Estuario

(Valoración: hasta 3 puntos)

2. El mapa representa la estructura espacial y densidad industrial en 1975. Analícelo y responda a las siguientes preguntas:

- a) Diga el nombre de las Comunidades Autónomas que tienen más de 16 trabajadores/Km².
- b) Identifique y dé nombre los núcleos con más de 50.000 empleos en las Comunidades Autónomas de Galicia, Asturias, Aragón, Castilla y León y Andalucía.
- b) Explique los principales rasgos de la distribución espacial de la industria en España.

(Valoración: hasta 3 puntos)

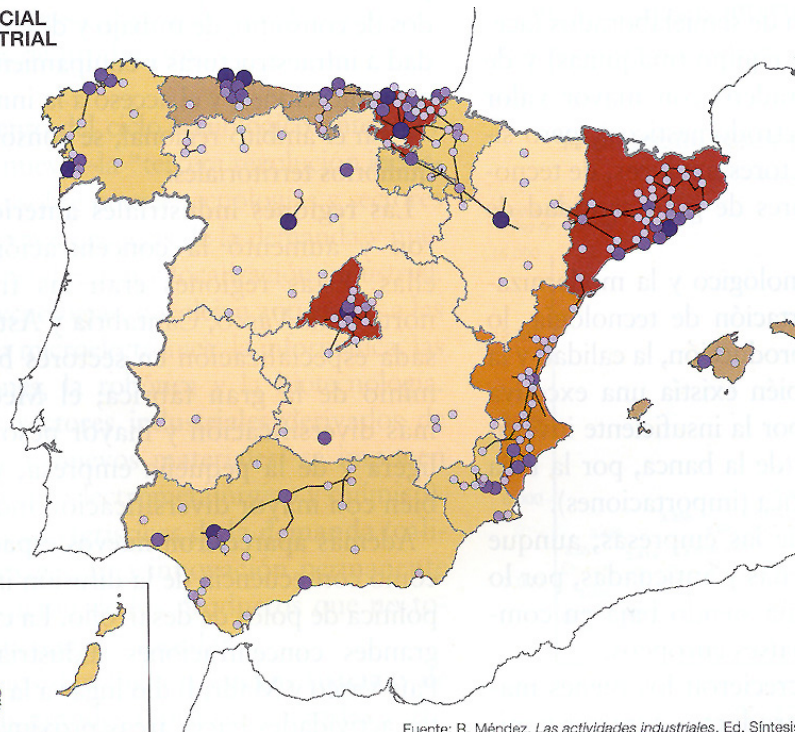
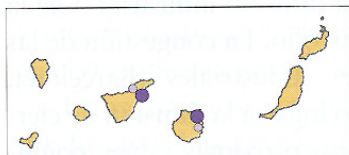
ESTRUCTURA ESPACIAL
Y DENSIDAD INDUSTRIAL
EN 1975

Trabajadores/Km²

Media España = 7,2



Nº de empleos (miles)



Fuente: R. Méndez. *Las actividades industriales*. Ed. Síntesis.

3. Unidades del relieve peninsular exteriores a la Meseta.

(Tema libre, para cuyo desarrollo se sugiere realizar un esquema previo)

(Valoración: hasta 4 puntos)



UNIVERSIDADES DE ANDALUCÍA
PRUEBA DE ACCESO A LA UNIVERSIDAD

GEOGRAFÍA

- Instrucciones:
- a) Duración: 1 hora y 30 minutos.
 - b) La presente prueba consta de dos opciones (A y B), de las cuales deberá desarrollar solamente una.
 - c) En todos los casos se considerarán elementos de ponderación de la nota final la calidad de la redacción y la claridad gramatical y ortográfica. La calificación máxima va expresada bajo cada pregunta.

OPCIÓN B

1. Expresar de modo conciso el significado geográfico de los siguientes términos:

Turismo cultural
Materias primas

Paralelo geográfico
Litoral

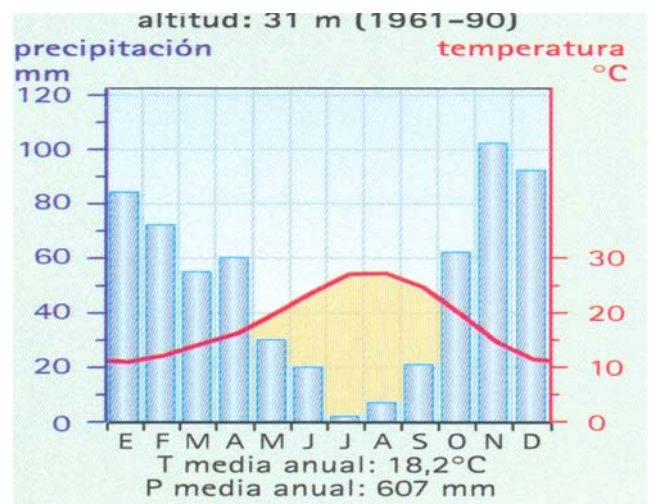
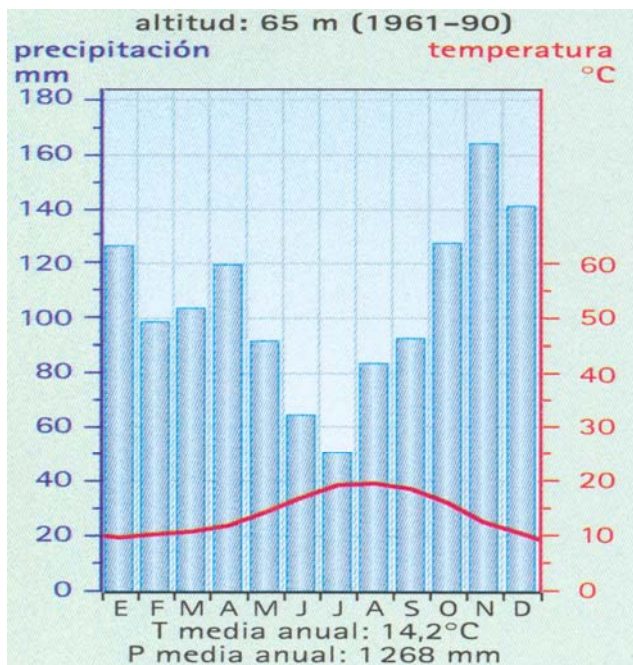
Relieve herciniano
Ganadería intensiva

(Valoración: hasta 3 puntos)

2. La figura siguiente representa dos diagramas ombrotérmicos (*climogramas*). Con la información que contienen responda a las siguientes preguntas:

- a) Explique las diferencias pluviométricas mensuales y estacionales entre estas dos representaciones climáticas.
- b) Halle, aproximadamente, la oscilación térmica anual en cada uno de los diagramas y explique cómo se refleja el concepto de aridez.
- c) ¿Qué dos tipos de clima representa cada uno? ¿dónde se podrían localizar?. Razone brevemente la respuesta.

(Valoración: hasta 3 puntos)



3. Dominios y paisajes agrarios en España.

(Tema libre, para cuyo desarrollo se sugiere realizar un esquema previo)

(Valoración: hasta 4 puntos)